

Сдаём вперед контурные карты «Международные организации»



# СТРУКТУРЫ ХОЗЯЙСТВА


- Что такое МГРТ?
- Какие страны мира входят в АСЕАН?
- Назовите несколько государств-членов ОПЕК
- Приведите примеры ТНК

# РАЗВИТИЕ СТРУКТУРЫ

За свою историю человечество в своем развитии прошло три последовательных стадии развития

Для каждой из них был характерен свой тип хозяйственной структуры

Со временем в обществе осуществлялся переход между этими стадиями



# СЕКТОРЫ МИРОВОЙ ЭКОНОМИКИ

Традиционно в мировой экономики выделяют три сектора: аграрный (первичный), промышленный (вторичный) и сферу услуг (третичный). Каждое предприятие, приносящее доход в ВВП относится к одному из этих секторов. Так по их доходу и формируется структура хозяйства для каждого государства



- Для какого государства характерна такая структура хозяйства: Индии, Чада или Швеции?
- Как будут называться страны, у которых в структуре хозяйства преобладает с/х?

# 1. ДОИНДУСТРИАЛЬНАЯ СТРУКТУРА

Это была эпоха аграрного общества

В экономику государств наибольший доход приносили сельское хозяйство, лесная и рыбная промышленность

Сейчас такая структура сохранилась в наиболее отсталых странах мира



# АГРАРНАЯ СТРУКТУРА

В структуре ВВП Сомали, Эфиопии, Афганистана, Лаоса, Камбоджи и Непала на долю сельского хозяйства все еще приходится до 50%. А доля экономически активного населения, занятого в этой отрасли может достигать 90%



- Покажите на карте мира эти государства
- Почему в них так велика доля людей, занятых в с/х?


# 2. ИНДУСТРИАЛЬНАЯ СТРУКТУРА

Преобладала во всех развитых странах до середины XX века

В экономику государств наибольший доход приносили отрасли производственной сферы (строительство, металлургия, иные виды промышленности)

Сейчас в мире нет стран, где на долю вторичного сектора приходилось бы более 50% от ВВП

К индустриальным странам все же можно отнести Китай и государства Персидского залива, занимающиеся добычей и переработкой нефти



# ИНДУСТРИАЛЬНЫЕ СТРАНЫ

В современном мире это, прежде всего, Саудовская Аравия, Кувейт, ОАЭ, Иран, Катар. Достаточно высока эта доля и в Китае. До недавнего времени в нее входили многие страны СНГ



- Покажите на карте мира эти государства
- Почему страны с такой развитой промышленностью как Германия и Япония не относятся сейчас к индустриальным?



# 3. ПОСТИНДУСТРИАЛЬНАЯ СТРУКТУРА

Начала формироваться в странах с переходом к НТР

Произошел переход в экономике от производства к оказанию услуг

Произошла информатизация и роботизация производства, стали более котироваться работники умственного труда



# ПОСТИНДУСТРИАЛЬНЫЕ СТРАНЫ

На начало XXI века в США, Японии, Канаде и Германии доля третичного сектора в ВВП составляла до 80%, а в России почти 60%. В карликовых странах (Сейшельские острова, Багамы, Монако) эта цифра доходит до 95%. По всему миру становятся востребованы совсем не те профессии, что в эпоху индустриализации



- Какие профессии сейчас отходят на второй план?
- Есть ли что-то негативное в таком развитии общества?

# ВЛИЯНИЕ НТР НА СТРУКТУРУ ХОЗ-ВА




НТР позволила вывести большой процент людей из работы в первичном и вторичном секторах экономики

Выделилась «авангардная тройка отраслей промышленности» – машиностроение, энергетика и химическая промышленность

В с/х возросла роль животноводства

Уменьшилась роль ж/д транспорта в пользу авто-, авиа- и морского





Читать Тема 4.3 (с. 102 – 105)  
Задание 4 (с. 118) – письменно в тетрадке

1. Что понимается под структурой хозяйства страны?
2. В чем заключается аграрная структура хозяйства?
3. Какие страны её имеют сейчас?
4. Какую структуру хозяйства в настоящий момент имеют почти все развитые страны мира?
5. Какое явление способствовало этому?

1. Какие три сектора мировой экономики вы знаете?
2. Какие три стадии развития хозяйства прошло человечество?
3. В чем заключается индустриальная структура хозяйства?
4. Какие государства ее имеют сейчас?
5. Какие отрасли промышленности относятся к «авангардной тройке»?