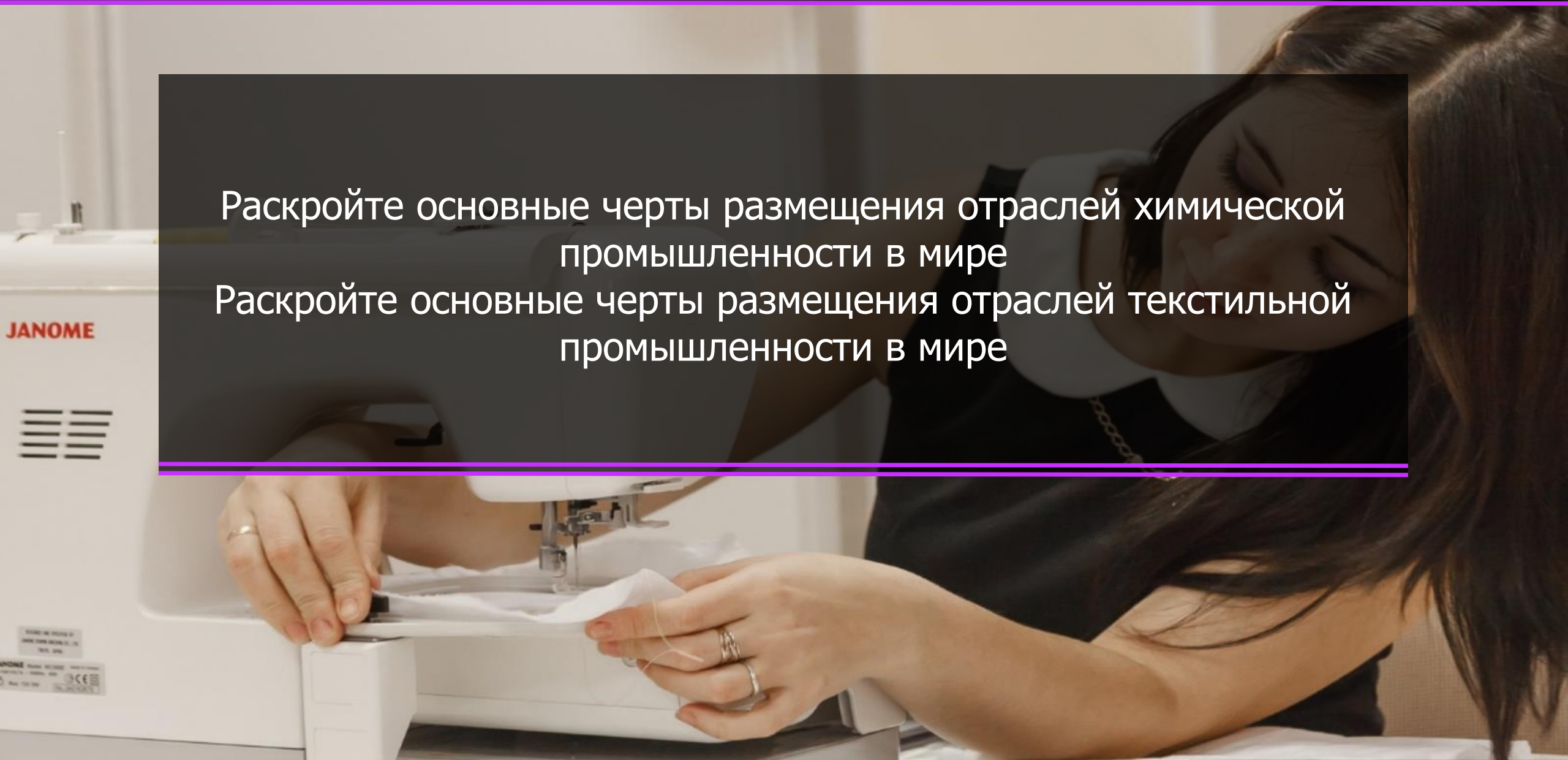


Раскройте основные черты размещения отраслей химической промышленности в мире
Раскройте основные черты размещения отраслей текстильной промышленности в мире





СЕЛЬСКОЕ ХОЗЯЙСТВО МИРА

- Какие две крупнейших отрасли входят в состав с/х?
- Чем отличается с/х в развитых и развивающихся странах?



РОЛЬ В МИРЕ

Это ведущая отрасль материального производства в мире

В с/х занято более 2,5 млрд человек

Особые изменения произошли в 60-е годы XX века из-за НТР, которое коренным образом преобразовало с/х на основе современной агротехники

Эти изменения получили наименование «Зелёная революция»

В мире с/х принято разделять на товарное и потребительское



«ЗЕЛЁНАЯ РЕВОЛЮЦИЯ»

Состояла из трех компонентов:

- 1) Выведение новых скороспелых сортов разных культур с повышенной урожайностью
- 2) Расширение ирригации (искусственного орошения)
- 3) Более широкое применение современной техники



- Все ли страны мира она затронула?

- Какие плюсы получили государства, где «Зеленая революция» состоялась?

- Какие страны она коснулась в первую очередь?

ТОВАРНОЕ С/Х

Характерно для развитых государств, где широко используются все элементы «зелёной революции»

Представлено крупными хорошо организованными фермами и плантациями с широким применением наёмной рабочей силы

Ориентировано на продажу качественного товара на внешний рынок



УРОВЕНЬ МЕХАНИЗАЦИИ С/Х

В начале XXI века в Японии на 1000 гектаров пашни приходилось 450 тракторов. В Германии их было 200, а в Италии 150.

Больше всего минеральных удобрений на 1 гектар вносилось в Нидерландах (550 кг), Бельгии и Японии (400 кг), Германии (390 кг)



- Есть ли обратная сторона у такого активного использования удобрений?

ПОТРЕБИТЕЛЬСКОЕ С/Х

Характерно для развивающихся стран мира

Представлено мелкими хозяйствами со слабой технической оснащённостью и отсутствием механизации труда

Урожайность здесь в два раза ниже, чем в товарном

Продукция не идет на продажу, а лишь удовлетворяет нужды самих работников



ХЛОПОК В БУРКИНА-ФАСО

Хлопок является главным богатством страны Буркина-Фасо. Целые семьи выходят на его сборы. Стоимость его и стоимость хлопка из США на мировом рынке абсолютно одинакова, хотя на добычу хлопка в Африке руками людей требует в 2000 раз больше времени. Кроме того, зарплата американского фермера за день равна зарплате фермера в Буркина-Фасо за год



- Какую продукцию изготавливают из хлопка?

ЗЕРНОВОЕ ХОЗЯЙСТВО





Является основой мирового с/х и растениеводства

Зерновые занимают до половины площади обрабатываемых земель







80% мирового сбора зерна дают пшеница, рис и кукуруза

Главными экспортёрами зерна являются США, Канада, Россия, Австралия, Франция








ПШЕНИЦА

	МЛН ТОНН
 China	134.3
 India	98.5
 Russia	85.9
 United States	47.3
 France	36.9
 Australia	31.8
 Canada	30.0

РИС

	МЛН ТОНН
 China	209.5
 India	158.8
 Indonesia	77.3
 Bangladesh	52.6
 Vietnam	43.4
 Myanmar	25.7
 Thailand	25.3

КУКУРУЗА

	МЛН ТОНН
 United States	361.1
 China	215.6
 Brazil	79.9
 Argentina	33.1
 Ukraine	28.5
 India	23.7
 Mexico	23.3



АМЕРИКАНСКАЯ ПШЕНИЦА

Больше всего пшеницы выращивают на Великих равнинах США и Канады. Предместья канадского Виннипега – мировая столица пшеницы. Здесь со времен «пшеничной лихорадка» растут твердые высококачественные сорта пшеницы. Именно эти страны дают максимальные урожаи пшеницы во всём мире



- Какая продукция производится из пшеницы?

ПРОДОВОЛЬСТВЕННЫЕ КУЛЬТУРЫ

На втором месте после зерновых идут масличные культуры

По сое лидируют США, по арахису – Индия, а по оливкам - Италия

Важными являются клубнеплодовые культуры (картофель) по сбору которых лидируют Китай, Россия, Индия и США

К сахароносным культурам относят тростник (Азия) и свёклу (Россия, Европа)

Тонизирующие культуры (чай, кофе) производят в тропических странах

Сахарный тростник	Сахарная свёкла
Бразилия	Россия
Индия	Франция
Китай	США
Таиланд	Германия
Пакистан	Турция

Кофе	Чай
Бразилия	Китай
Вьетнам	Индия
Колумбия	Кения
Индонезия	Шри-Ланка
Мексика	Турция

Читать Тема 5.2 (с. 140 – 147)
Оформить контурную карту «С/Х мира»



1. В чем была суть «зеленой революции»?
2. Расскажите об особенностях потребительского с/х
3. Приведите 3 примера стран, где распространено товарное с/х
4. Назовите три главных зерновых культуры в мире
5. Приведите примеры масличных культур и стран, в которых они распространены
6. В каких странах наиболее высокий уровень механизации с/х?

1. Сколько человек в мире заняты в сельском хозяйстве?
2. Когда в мире случилась «зеленая революция»?
3. Расскажите об особенностях товарного с/х
4. Приведите 3 примера стран, в которых распространено потребительское с/х
5. Назовите главных экспортеров зерна
6. Приведите примеры тонизирующих культур и стран их распространения